

Wiskunde

TOETS 1

Punte: 40

Tyd: 60 minute

1. Vul die ontbrekende getalle in. (2)

1.1 310; 320; _____; 340; _____; 360; _____; _____; 390

1.2 130; 133; _____; _____; _____; _____; _____

2. Voltooi die tabel. (4)

Getal in syfers	Getal in woorde
443	
	driehonderd en twee
251	
	ses-en-sewentig

3. Rangskik die getalle van kleinste tot grootste. (1)

643 221 784 143 97 695 981

4. Skryf die waarde van elke onderstreepte syfer neer. (2)

4.1 643 _____ 4.2 781 _____

4.3 348 _____ 4.4 924 _____

5. Breek die getalle op in honderde, tiene en ene. (2)

5.1 $643 = 600 + \square + \square$

5.2 $251 = \square + 50 + \square$

6. Voltooi die tabel.

(3)

Voor	Getal	Na
444	445	
	732	733
199		201

7. Tel die getalle bymekaar.

(2)

7.1 $64 + 23 =$

7.2 $131 + 245 =$

8. Trek die getalle van mekaar af.

(2)

8.1 $89 - 24 =$

8.2 $378 - 131 =$

9. Voltooi die tabel.

(4)

Halveer	Getal	Verdubbel
	46	
	24	

10. Jodi het 5 pakkies kougom. Daar is 23 stukkies kougom in elke pakkie. Hoeveel stukkies kougom het Jodi altesaam?

(1)

11. Voltooi die patroon.

(1)



12. Voltooi die getalpatrone.

(2)

12.1 2; 4; _____; _____; _____; _____; _____; _____; _____; _____

12.2 20; 40; _____; _____; _____; _____; _____; _____

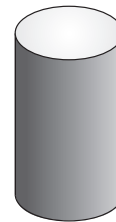
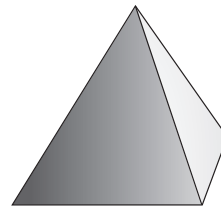

13. Voltooi die geldtabel.

(1)

R5- muntstukke	1	2	3	4	5	6	7
Totale bedrag	R5			R20			

14. Pas die voorwerpe by die woorde.

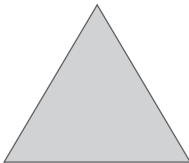
(2)





keël piramide sfeer silinder


15. Skryf die name van die vorms neer.

(2)

15.1 

15.2 

15.3 

15.4 

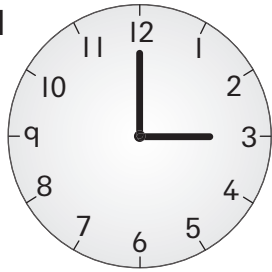
16. Noem twee vorms wat meer as vier sye het.

(1)


17. Hoe laat is dit?

(3)

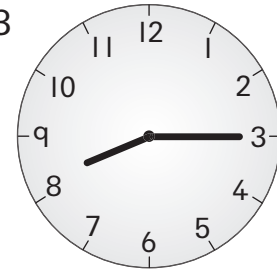
17.1



17.2



17.3



18. Voltooi.

(3)

18.1 Daar is _____ dae in 5 weke.

18.2 14 dae is _____ weke.

18.3 36 maande is _____ jaar.

19. Voltooi die grafiek deur hierdie inligting daarop in te vul.

(2)

- 6 kinders het groen oë
- 2 kinders het blou oë
- 8 kinders het bruin oë
- 1 kind het grys oë
- 3 kinders het 'n ander kleur oë

Aantal kinders	8					
	7					
	6					
	5					
	4					
	3					
	2					
	1					
		Groen	Blou	Bruin	Grys	Ander

Kleur van oë